



Nome: _____

Data: ____/____/____

Ficha de Revisões

1. Relaciona os dados. Segue o exemplo.

No reinado de D. Carlos instalou-se uma crise económica e...	implantou uma ditadura em Portugal.
A Assembleia Constituinte...	durante o Estado Novo.
Gomes da Costa chefiou o golpe militar de 28 de maio e...	alguns defendiam uma mudança de regime.
António de Oliveira Salazar foi Chefe de Governo...	primeiro Presidente da República.
Manuel de Arriaga foi o...	elaborou a constituição de 1911.

2. Completa as frases seguintes:

Em 1986, Portugal entrou na CEE, agora _____.

Em 2002, aderiu à moeda única europeia, o _____.

3. Liga as datas aos respetivos acontecimentos. Pinta as datas em que é feriado.

Morte de Luís de Camões.	25 de abril	Dia da Liberdade
Luta dos trabalhadores por melhores condições de trabalho.	1 de dezembro	Dia da Restauração da Independência
Implantação da República, após oito séculos de Monarquia.	10 de junho	Dia de Portugal, de Camões e das Comunidades
Revolução que estabeleceu a Democracia.	5 de outubro	Dia do Trabalhador
Aclamação de D. João IV, como rei	1 de maio	Dia da Implantação da República

4. Para estudar a história de uma instituição, consultam-se várias fontes de informação.
Como se chamam essas fontes?

5. Quais são os símbolos nacionais?

6. Selecciona com X a opção correta.

A atual bandeira nacional surgiu após...

a) a intervenção do Movimento das Forças Armadas.

☐

b) a implantação da República.

☐

c) a implantação da Monarquia.

☐

d) a conquista definitiva do Algarve.

☐

7. Classifica com V (verdadeiro) ou F (falso) as seguintes afirmações:

a) A cor verde simboliza a proteção do território.

☐

b) A cor verde simboliza o sangue derramado nas batalhas da defesa da pátria.

☐

c) A esfera armilar simboliza os Descobrimentos.

☐

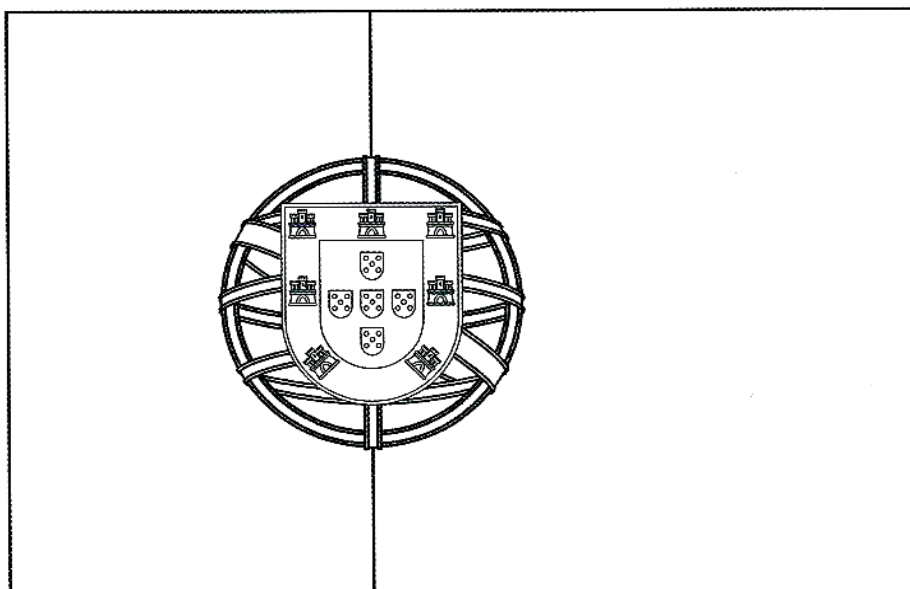
d) O escudo com as quinas homenageia a luta pela independência.

☐

e) A cor amarela simboliza a conquista de territórios em África.

☐

8. Pinta a Bandeira Nacional.



9. Qual o nome do Hino Nacional?

10. Em Portugal existem três tipos de aglomerados populacionais. Liga corretamente:

Aldeias ○

○ Têm um elevado número de habitantes, que residem maioritariamente em prédios e dedicam-se sobretudo à indústria, comércio e serviços.

Vilas ○

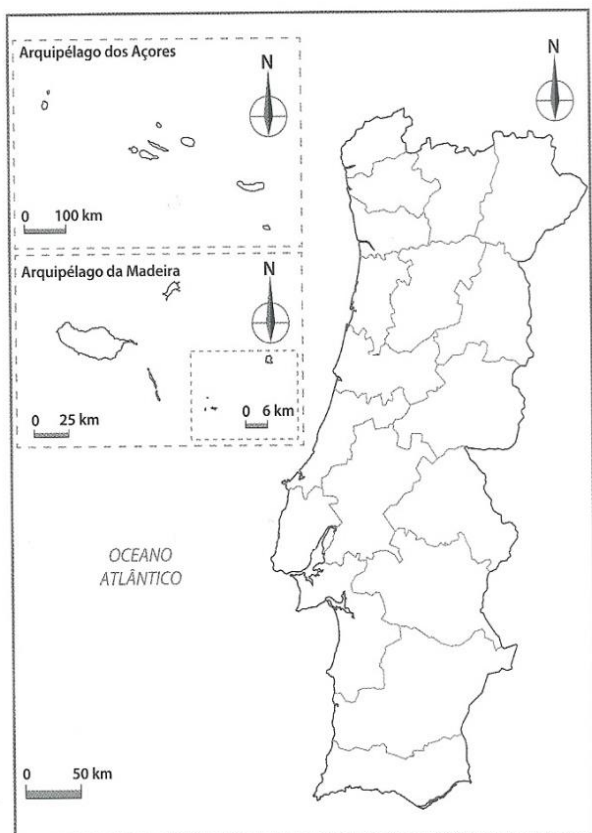
○ Têm um número reduzido de habitantes, que residem em casas e dedicam-se sobretudo à atividade agrícola.

Cidades ○

○ Têm um número de habitantes, superior ao das aldeias. Existem prédios e alguma indústria, comércio e serviços.

11. Que nome se dá ao número de habitantes distribuídos por cada quilómetro quadrado?

12. Observa e responde:



12.1. Em que distrito vives?

12.2. Pinta-o de verde.

12.3. Qual é a capital de Portugal?

12.4. Assinala-a, com um X, no mapa.

12.5. Escreve o nome de três distritos.

13. Assinala com X as afirmações verdadeiras.

- A serra do Pico é o ponto mais alto de Portugal. ☐
- A serra do Marão situa-se no sul de Portugal Continental. ☐
- O Pico Ruivo situa-se na ilha das Flores, nos Açores. ☐
- Um conjunto de serras é uma montanha. ☐
- A serra da Estrela é o ponto mais elevado de Portugal Continental. ☐

14. Assinala as frases seguintes com V (verdadeira) ou F (falsa).

- ☐ A altitude é a distância medida na vertical entre o fundo do mar e um local.
- ☐ As regiões com maior altitude localizam-se no Norte de Portugal continental e nas ilhas.
- ☐ A serra da Estrela localiza-se no Sul de Portugal.

15. Escreve o nome da elevação que se localiza mais perto da tua localidade?

16. Observa o mapa e **legenda** os rios.

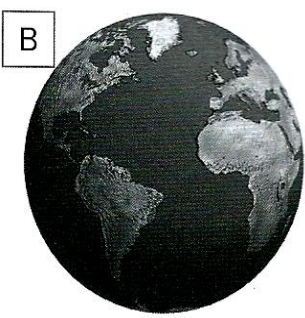
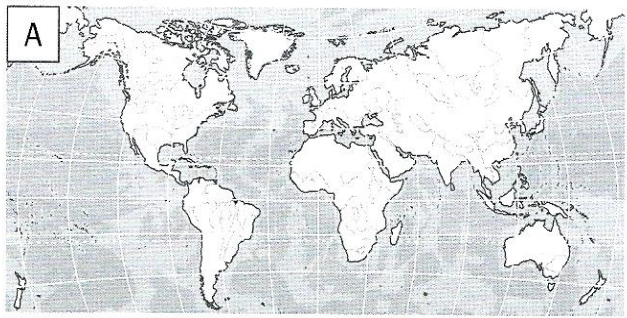


- 1- _____
- 2- _____
- 3- _____
- 4- _____
- 5- _____
- 6- _____
- 7- _____

17. Nos Arquipélagos não existem rios. Como se chamam aos cursos de água existentes nas ilhas?

18. Como se chama o rio que desagua mais perto da nossa localidade?

19. Observa as imagens seguintes.



19.1. Quais são as formas de representação da Terra que estão ilustradas?

A - _____ B - _____

20. Completa com a informação correta:

Portugal situa-se na parte _____ da Península _____. A norte e a este faz fronteira terrestre com _____ e a sul e a oeste tem fronteira marítima com _____.

21. Traça, na figura:

- .a verde, a fronteira marítima,
- .a castanho, a fronteira terrestre de Portugal.
- . Pinta Espanha a amarelo.



22. Nomeia três países nos quais a língua oficial é o português (países lusófonos).

23. Descobre na sopa de letras, o nome de seis países destinos de emigração.

W	V	J	H	G	F	T	A	R	I	J	D	L
D	H	B	R	A	S	I	L	J	F	L	M	V
C	F	D	K	S	A	G	E	E	N	B	Z	W
L	I	E	L	U	X	E	M	B	U	R	G	O
G	Y	I	U	Í	N	D	A	F	R	G	H	I
F	R	A	N	Ç	A	A	N	W	F	B	N	M
B	U	E	C	A	X	V	H	A	E	R	I	Y
V	F	H	T	M	U	F	A	N	T	U	K	A
C	Y	V	E	N	E	Z	U	E	L	A	F	E
